

LINGUA PORTUGUESA

É o emprego, “cara”...

Delfim Netto

De todos os desperdícios de recursos naturais de uma sociedade, nenhum é mais injusto, mais prejudicial à integração social e à autoestima do cidadão do que negar-lhe a oportunidade de viver honestamente e sustentar a família com o resultado do seu trabalho. É por isso que a construção de uma sociedade mais “justa” começa pela maximização do nível de emprego.

Não se imagina que em uma organização econômica como a que vivemos todos terão emprego a um só tempo, mesmo nos períodos mais dinâmicos de crescimento. Sempre haverá fases de acomodação do nível da atividade podendo gerar uma taxa de desemprego friccional que a sociedade “justa” tem de socorrer com as políticas sociais do Estado.

Há quatro anos a sociedade americana viu-se envolvida em uma séria crise bancária que em poucas semanas eliminou milhares de empregos no setor financeiro, antecipando a tragédia que em alguns meses suprimiu perto de 15 milhões de postos de trabalho nos demais setores da economia. Países da Comunidade Européia sofrem hoje de forma dramática o agravamento de uma crise de origens similares, sob ameaça de desmoronamento dos pilares de sua principal construção, o sistema do euro. No mundo inteiro, algo como 30 milhões de trabalhadores não recuperaram os empregos incinerados desde a crise de 2008/2009.

As consequências de ordem política e institucional estão revelando-se na medida em que os cidadãos ocupam as ruas das metrópoles do Ocidente, cobrando respostas das lideranças globais, aparentemente perplexas e atordoadas. É surpreendente, mas reveladora deste estado de coisas, a explicação e o mea culpa atribuídos ao ministro da Economia da Grécia, Michalis Chryssohoidis: “nossa situação é desesperadora, porque reduzimos de forma bastante drástica a renda das pessoas”.

Dos Estados Unidos, os europeus estavam acostumados a receber conselhos (quando não a mão amiga) para contornar as crises. O que assistiram, porém, no início da última semana na tevê foi a imagem de um presidente americano cabisbaixo, desanimado, admitir em plena campanha que se tornou o “azarão” das próximas eleições. Importante, mesmo, foi Obama admitir francamente que seus baixos índices de popularidade são consequência do estado da economia neste final de mandato: “os eleitores não estão melhores hoje que há quatro anos. Conseguimos um progresso contínuo para estabilizar a economia, mas a taxa de desemprego ainda é muito alta”.

Um esforço para estabilizar que causou mais de 1 trilhão de dólares despejados nos cofres dos bancos para salvá-los da quebra, na crença de que o sistema financeiro retribuiria irrigando com créditos o setor produtivo. A esperança era de que o dinheiro do contribuinte seria usado para financiar a retomada dos investimentos na indústria e da atividade comercial, voltando a estimular o consumo e com isso a recuperação do nível de emprego.

Nada do que se esperava aconteceu, como se sabe. Em contraste, formou-se aquele circuito tenebroso: sem a expectativa de melhora da demanda interna em razão da manutenção de altos níveis de desemprego, as empresas simplesmente adiaram investimentos na produção e não fizeram novas contratações de mão de obra, um circuito que se autoalimenta e habitualmente conduz à recessão econômica. O Brasil, é sempre bom lembrar, escolheu logo no início da crise outro caminho, até certo ponto surpreendente, mas que se revelou extremamente virtuoso: sem perder muito tempo com a sofisticação de modelos, o presidente dirigiu-se diretamente ao consumidor brasileiro e, na linguagem que cada um de seus milhões de eleitores compreendeu rapidamente, exortou-os a continuar consumindo: “se você deixar de ir ao mercado ou às lojas, se parar de comprar com medo de perder o emprego, aí então é que vai ficar sem emprego, porque a empresa vai deixar de produzir se não tiver para quem vender”.

Todos sabem que funcionou e o comportamento da economia brasileira para vencer a crise de 2008/2009 mantendo os níveis de emprego, a renda salarial e o consumo interno em crescimento, é reconhecido mundialmente como extraordinariamente bem-sucedido. Hoje o nosso ex-presidente continua sendo admirado como “o cara”, que intuiu que a saída da crise estava na manutenção dos empregos e da renda dos salários, mais do que a salvação da banca.

Curiosamente é Obama, o criador do honroso apelido, quem hoje faz também uma espécie de mea culpa por demorar quatro anos para entender a mensagem de seu então “colega”, o trabalhador Luiz Inácio Lula da Silva.

(Revista - Carta Capital n° 667- 8 de outubro de 2011)

1 – Considerando o sentido geral do texto, o adjetivo que substitui de forma **adequada** os pontos de reticências do título é:

- A. Esperto
- B. Prepotente.
- C. Competente
- D. Estratégico
- E. Visionário

2 – O item do texto em que o autor **não** inclui termo que indique sua opinião sobre o conteúdo veiculado pelo texto é:

- A. “Não se imagina que em uma organização econômica como a que vivemos todos terão emprego ao mesmo tempo.”
- B. “É surpreendente, mas reveladora deste estado de coisas, a explicação e o mea culpa atribuídos ao ministro da Economia da Grécia”
- C. “Há quatro anos a sociedade americana viu-se envolvida em uma séria crise bancária que em poucas semanas eliminou milhares de empregos no setor financeiro”.
- D. As lideranças globais estão, aparentemente, perplexas e atordoadas.
- E. “Importante, mesmo, foi Obama admitir francamente que seus baixos índices de popularidade são consequência do estado da economia neste final de mandato”.

3 – Segundo o autor do texto, “de todos os desperdícios de recursos naturais de uma sociedade (...) nenhum é mais injusto que:

- A. Negar ao cidadão a oportunidade de honestamente viver e sustentar a família com o fruto do seu trabalho.
- B. Não haver emprego para todos ao mesmo tempo.
- C. Socorrer as pessoas desempregadas com as políticas sociais do Estado.
- D. A queda da popularidade de Obama.
- E. Países da Comunidade Européia sofrerem com o agravamento da crise.

4 – Segundo o texto a finalidade do trabalho é:

- A. Evitar a falta de empregos.
- B. Negar a autoestima do cidadão.
- C. Garantir a felicidade
- D. Acabar com a malandragem.
- E. Prover o ser humano de recursos à sobrevivência.

5 – No texto, encontramos os vocábulos **crença** e **construção** corretamente grafados com “ç”; o item abaixo em que um dos vocábulos está erradamente grafado com essa letra é:

- A. presunção – prevenção – ascensão.
- B. aspiração – adereço – caçarola.
- C. admiração – terçol – distorção.
- D. maçante – noviço – procuração.
- E. dança – alçapão – caniço.

6 – Na frase: “nossa situação é desesperadora, porque reduzimos de forma bastante **drástica** a renda das pessoas”, assinale a expressão que não equivale semanticamente a palavra sublinhada:

- A. Enérgica.
- B. Repentina.
- C. Suave.
- D. Atroz.
- E. Desumana.

7 – Assinale o item no qual os significados do adjetivo, em “circuito tenebroso,” estão corretos.

- A. Escondido/interno.
- B. Puro/cândido.
- C. Indevido/próprio.
- D. Horrível /medonho
- E. Exteriorizado/externo.

8 - “Curta ou longa” é um exemplo de antítese, em que se opõem dois vocábulos de significação oposta: o item abaixo em que os dois vocábulos indicados possuem oposição semântica é:

- A. Cessar/ interromper.
- B. Encerrar/ iniciar.
- C. Assolar/arrasar
- D. Realizar/ concretizar.
- E. Massacrar/ chacinar.

9 – Quanto à concordância do verbo com o sujeito, as frases: “ Mais de um jornal fez alusão nominal ao Brasil” e “ Mais de um jovem, mais de idoso foram mortos nesta batalha.”

- A. A primeira está certa, e a segunda errada.
- B. Ambas estão certas.
- C. Ambas estão erradas.
- D. A primeira está errada, e a segunda certa.
- E. Nenhuma das alternativas.

10 – Assinale a opção que completa corretamente as lacunas da frase a seguir:

“Saíram daqui ... pouco, mas retornarão daqui ... pouco, pois residem apenas ... três quilômetros”.

- A. há – a – a.
- B. há – há – a.
- C. a – a- a.
- D. a – há – a.
- E. à – à – à.

LÓGICA (MATEMÁTICA)

11. O Jornal NOTISUL de 25/10/2011 publicou a seguinte matéria: “O preço do litro do etanol está longe do R\$ 1,60 do cobrado no começo do ano passado. Hoje, está na casa dos R\$ 2,37. Menos mal que não são previstos aumentos até o próximo dia 15. Desde outubro do ano passado, ocorreu um reajuste de 40% no valor deste combustível”.

Podemos dizer que esta notícia tem um erro matemático, neste sentido é correto afirmar que:

- A. O percentual de aumento entre 45% a 50%
- B. O percentual de aumento menor 40%
- C. O percentual de aumento foi de 50%
- D. O percentual de aumento foi de 45%
- E. O percentual de aumento entre 40% a 45%

12. O Sr. Antônio receberá visitas neste fim de semana, sua esposa lhe pediu para comprar 10 litros de refrigerante. Porém, ao chegar ao mercado, se deparou com algumas promoções de refrigerantes com garrafas de diferentes volumes, os dados foram colocados na tabela abaixo:

| | | | | | |
|--------|----------|----------|----------|----------|----------|
| Volume | 600mL | 1,5L | 1,75L | 2L | 3,3L |
| Valor | R\$ 1,67 | R\$ 1,89 | R\$ 1,98 | R\$ 2,49 | R\$ 2,98 |

Sabendo que Antônio não deve levar para casa menos de 10 litros e mais do que 11 litros de refrigerante, qual é a opção mais barata:

- A. 5 garrafas de 2L
- B. 3 garrafas de 3,3L
- C. 17 garrafas de 600mL
- D. 7 garrafas de 1,5L
- E. 6 garrafas de 1,75L

13. As televisões de tela plana têm seus tamanhos apresentados em polegadas. Quando dizemos que uma TV é de 42” significa que sua diagonal tem 42 polegadas de comprimento. Sabendo que as TVs obedecem a uma proporção, se a tela de uma TV de 42” tem 53 cm de altura, qual é a altura aproximada de uma TV de 63” em centímetros?

- A. 63
- B. 74
- C. 93
- D. 86
- E. 80

14. Pedro guardou suas moedas o ano todo em um cofrinho. No fim de outubro ele abriu o cofre e contou suas economias, organizando-as por valor. No total havia 200 moedas no cofre, conforme o gráfico:



Qual foi a economia de Pedro?

- A. R\$ 62,00
- B. R\$ 63,00
- C. R\$ 59,00
- D. R\$ 60,00
- E. R\$ 61,00

15. Uma pastelaria precisa saber quantos pastéis pode fazer com 38 metros de massa e 1Kg de recheio. Qual das alternativas abaixo tem a resposta correta, sabendo que para fazer 20 pastéis são necessários 12 metros de massa e 600 gramas de recheio.

- A. 120 pastéis
- B. 98 pastéis
- C. 110 pastéis
- D. 105 pastéis
- E. 95 pastéis

16. A receita de uma sobremesa leva 1 litro de leite, sendo que um quinto deste volume é utilizado no chantilly. Qual é o volume utilizado para o chantilly desta sobremesa?

- A. 250 mL
- B. 0,2 L
- C. 0,5 L
- D. 300 mL
- E. 0,4 L

17. O número de usuários da rede social Facebook de agosto de 2010 a agosto de 2011 cresceu de 598 milhões para 753 milhões de pessoas. Estima-se que em agosto de 2012,

teremos o dobro de usuários de 2010. Diante deste fato, qual é o aumento esperado entre 2011 e 2012?

- A. 155 milhões de usuários
- B. 753 milhões de usuários
- C. 443 milhões de usuários
- D. 598 milhões de usuários
- E. 310 milhões de usuários

18. Um tapete artesanal é produzido com retalhos de tecido, que são comprados de malharias da região. Para confeccionar um tapete de 1 m por 65 cm, 1,5 kg de malha. Sabendo que a malharia vende o Kg da malha por R\$ 6,00 e o tapete é vendido por R\$ 42,00 o metro quadrado, qual é o lucro do artesão?

- A. R\$ 27,30
- B. R\$ 33,00
- C. R\$ 18,30
- D. R\$ 36,00
- E. R\$ 21,30

19. Analisando a sua árvore genealógica até a segunda geração, Samuel tem 120 parentes, dentre eles $\frac{3}{4}$ são homens e o restante são mulheres. Qual é o número de familiares do sexo feminino na árvore de Samuel?

- A. 90
- B. 25
- C. 45
- D. 30
- E. 64

20. Um número poligonal é um número que pode ser representado por pontos formando um polígono regular. Na figura abaixo, vemos os números triangulares, definidos pela contagem dos pontos de cada figura. Assim, a primeira figura tem apenas 1 ponto, a segunda tem 3 pontos, a terceira 6, e assim segue. Qual é o quinto número triangular?



- A. 15
- B. 12
- C. 13
- D. 14
- E. 16

LEGISLAÇÃO MUNICIPAL

21. Assinale entre as sentenças que seguem aquela que apresenta corretamente alguns dos requisitos necessários para assumir um cargo público:

- A. Ter nacionalidade brasileira, estar em dia com as obrigações militares e eleitorais, ter aptidão física e mental, ter idade mínima de dezesseis anos;
- B. Ser brasileiro, ter sido aprovado em concurso público, ter idade mínima de dezoito anos, estar em dia com as obrigações militares e eleitorais;
- C. Ter idade mínima de dezoito anos, ter qualquer nacionalidade desde que tenha sido aprovado em concurso público;
- D. Ter sido aprovado em concurso público, gozar plenamente os direitos políticos, ser brasileiro, ter idade mínima de dezoito anos para homens e vinte e um para mulheres;
- E. Ser brasileiro e ter sido aprovado em concurso público independente do nível de escolaridade exigido para o cargo, ter idade mínima de dezoito anos, nunca ter sido citado em processo judicial.

22. Pode ocorrer que o servidor que prestou concurso público e assumiu determinado cargo ou função, sofra algum acidente que lhe cause limitações parciais e o impeça de continuar exercendo as funções para as quais foi concursado. Neste caso o servidor terá direito a voltar ao serviço respeitando-se a compatibilização entre as atribuições e responsabilidades do cargo a assumir e a limitação da capacidade física ou mental sofrida pelo servidor, e verificada em inspeção médica.

Em qual forma de provimento de cargos públicos, se enquadraria o servidor acima citado:

- A. Reversão;
- B. Reintegração;
- C. Nomeação
- D. Readaptação;
- E. Aproveitamento

23. Assinale, entre as situações que seguem, aquela que apresenta uma das razões corretas para que um cargo público fique vago:

- A. Substituição;
- B. Licença;
- C. Afastamento;
- D. Suspensão;
- E. Aposentadoria.

24. Entre as alternativas que seguem, identifique aquela que apresenta uma circunstância em que o servidor público tem direito de solicitar licença do serviço:

- A. Isentar-se de responsabilidades no exercício de suas funções;
- B. Exercer atividade profissional remunerada;
- C. Acompanhar caso de doença em pessoa da família;
- D. Administrar empresa prestadora de serviço ao município;
- E. Fazer viagem de turismo financiada por verba pública.

25. O servidor tem o direito legal a 03 (três) meses de licença prêmio após cada cinco anos de efetivo trabalho. Não será concedida a licença prêmio ao servidor que durante o período aquisitivo tenha cometido infrações, conforme a Lei Complementar nº 136.

Assinale a alternativa que apresenta uma dessas infrações:

- A. Falta injustificada ao serviço por mais de trinta dias;
- B. Falta a sessão de exercício laboral no setor onde trabalha;
- C. Inclusão do nome no cadastro de serviço de proteção ao crédito;
- D. Recebimento de gratificação ou outra vantagem pecuniária;
- E. Falta injustificada ao serviço por mais de dez dias.

26. Considerando a Lei Complementar nº136 no que se refere ao regime de férias, assinale a alternativa correta, dentre as que seguem:

- A. Os servidores admitidos no serviço público há menos de doze meses não terão direito a férias coletivas até que completem um ano de trabalho;
- B. A cada 12 (doze) meses de exercício o servidor fará jus a 30 (trinta) dias de férias remuneradas, podendo ser acumuladas, até o máximo de dois períodos.
- C. As férias dos servidores públicos podem ser interrompidas a qualquer momento para cumprimento de carga horária referente a faltas registradas em livro ponto;
- D. A cada doze meses de exercício o servidor fará jus a trinta dias de férias remuneradas, descontadas eventuais faltas ao serviço.
- E. A cada ano trabalhado o servidor terá direito a trinta dias de férias remuneradas, cujo pagamento será efetuado na folha do mês em que o iniciar seu gozo ou nos sessenta dias subsequentes.

27. Identifique entre as sentenças abaixo, aquela que aponta corretamente deveres do servidor público do Município de Laguna:

- A. Zelar pela economia do material e a conservação do patrimônio público, deixando de executar atividades que exijam a utilização de grande quantidade de recursos;
- B. Ser leal à instituição a que servir, guardando sigilo sobre assuntos da administração Pública e omitindo-se em relação à ilegalidade praticada por superiores;
- C. Observar as normas legais e regulamentares, cumprindo as ordens superiores; exceto quando forem manifestamente ilegais;
- D. Cumprir as atribuições do cargo que ocupa, ficando permanentemente isento de qualquer acusação de atentado contra os princípios da administração pública;
- E. Manter conduta compatível com a moralidade administrativa, gerindo o patrimônio público com as regras do bom senso conforme está escrito na Constituição Brasileira.

28. Identifique entre as sentenças abaixo, aquela que se refere corretamente ao vencimento e remuneração do servidor público do Município de Laguna:

- A. Incluídas as vantagens de qualquer natureza, a remuneração em cargos públicos não poderá exceder o limite fixado na Lei Orgânica;
- B. Conforme o cargo que o servidor ocupa, seus vencimentos poderão ter importância superior ao fixado na Lei Orgânica;
- C. Quando o servidor negar-se a cumprir horas de trabalho extraordinário, terá descontos sobre sua remuneração ou provento e perderá o direito a defesa;
- D. Nenhum desconto incidirá sobre a remuneração ou provento do servidor público, exceto em situações em que tenha se afastado para gozar licença prêmio;
- E. Além do vencimento o servidor público não poderá receber vantagens pecuniárias de adicionais e gratificações em hipótese alguma.

29. Toda ação ou omissão do servidor que atente contra os princípios da administração pública é considerada infração disciplinar.
Assinale qual das alternativas abaixo aponta uma infração disciplinar passível de demissão:

- A. Exceder o horário para executar trabalho extraordinário;
- B. Não atender a convite do superior hierárquico;
- C. Dilapidar o patrimônio e lesar os cofres públicos;
- D. Apresentar-se ao local de trabalho sem uniforme;
- E. Desconhecer a estrutura do setor onde trabalha.

30. Mediante perícia médica de responsabilidade do Município, o servidor que necessitar de tratamento de saúde, terá direito a licença remunerada por período de até:

- A. 40 (quarenta) dias consecutivos;
- B. 15 (quinze) dias consecutivos;
- C. 60 (sessenta) dias consecutivos;
- D. 90 (noventa) dias interrompidos;
- E. 15 (quinze) dias interrompidos.

QUESTÕES ESPECÍFICAS MOTORISTA

31. Quando veículos que estão transitando por fluxos que se cruzam, e não houver sinalização, quem terá preferência de passagem?

- A. Se apenas um fluxo for proveniente de rodovia, tem preferência aquele que estiver circulando por ela.
- B. No caso de uma rotatória, tem preferência aquele que chegar primeiro nela.
- C. Tem preferência aquele que chegar mais rápido ao cruzamento.
- D. No caso de rotatória, tem preferência aquele que estiver com menos velocidade.
- E. Se os dois fluxos forem provenientes de rodovias, tem preferência aquele que estiver dirigindo veículo de carga.

32. De acordo como o Código de Trânsito Brasileiro, assinale as alternativas corretas sobre quais condições os condutores de motocicletas, motonetas e ciclomotores devem obedecer para circular nas vias públicas:

- I. Manter-se à esquerda da pista de rolamento;
- II. Utilizar capacete de segurança, com viseira ou óculos protetores;
- III. Utilizar vestuário de proteção;
- IV. Somente circular em vias que tenham faixa exclusiva para veículos do seu tipo;
- V. Segurar o guidom com as duas mãos.






Assinale a letra que corresponde a resposta correta:

- A. I, II, IV, e V;
- B. II, III e V;
- C. IV e V;
- D. I, II e III;
- E. II, III, IV e V.

33. O código de trânsito brasileiro classifica os veículos quanto à: tração, espécie e categoria. Assinale a opção que classifica corretamente a bicicleta quanto à tração e a espécie:

- A. Tração: automotor, espécie: de passageiros;
- B. Tração: propulsão humana, espécie: de carga;
- C. Tração: automotor, espécie: de carga;
- D. Tração: propulsão humana, espécie: passageiro.
- E. Tração: Elétrico, espécie: de competição.

34. A sinalização viária é fundamental para informar aos usuários sobre as condições, proibições, obrigações ou restrições no uso das vias públicas. Relacione a primeira coluna com a segunda, fazendo corresponder cada sinal com seu significado:

- I.  R-2 () Dê a preferência
- II.  R-6c () Proibido mudar de faixa ou pista de trânsito da direita para a esquerda
- III.  R-7 () Conserve-se à direita
- IV.  R-23 () Proibido ultrapassar
- V.  R-8b () Proibido parar e estacionar

Assinale a letra que corresponde a sequência correta:

- A. IV, I, V, II, III;
- B. II, V, III, IV, I;
- C. III, IV, I, V, II;
- D. I, V, IV, III, II;
- E. I, III, IV, II, V.

35. Assinale as alternativas que representam os requisitos exigidos para a obtenção da autorização para a condução coletiva de escolares:

- I. Registro como veículo de passageiros;
- II. Cinto de segurança somente para o motorista do veículo;
- III. Equipamento registrador instantâneo inalterável de velocidade e tempo;
- IV. Inspeção semestral para verificação de equipamentos de segurança;
- V. Identificação prevista na legislação.

Assinale a letra que corresponde a sequência correta:

- A. I, II, III e V;
- B. I, III, IV e V;
- C. II, IV e V;
- D. I e II;
- E. Todas as alternativas estão corretas.

36. Antes de colocar o veículo em circulação nas vias públicas, o condutor deve:

- A. Verificar a previsão do tempo a fim de evitar engarrafamentos e possíveis acidentes;
- B. Verificar o tempo que será gasto no deslocamento para calcular o combustível necessário;
- C. Verificar as boas condições de funcionamento dos equipamentos de segurança;
- D. Verificar as condições do trânsito e as vias mais indicadas para o tráfego;
- E. Verificar se as portas do veículo estão travadas e as bagagens adequadamente acomodadas.

37. Assinale a alternativa correta no que se refere aos equipamentos obrigatórios para o tráfego de veículos em vias públicas, de acordo com o Código de Trânsito Brasileiro:

- A. Cinto de segurança, com exceção de veículos destinados ao transporte de passageiros em percursos em que seja permitido viajar em pé;
- B. Encosto de braços para os bancos dianteiros de todos os tipos de veículos automotores;
- C. Equipamento registrador instantâneo inalterável de velocidade e tempo, necessário somente para os veículos de transporte e condução escolar;
- D. Câmbio de cinco marchas para motocicletas, carros de passeio e veículo de transporte de cargas;
- E. Campainha, sinalização noturna, espelho retrovisor, cinto de segurança, roupa adequada e farol para bicicletas.

38. Em relação aos pedestres e aos condutores de veículos não motorizados, assinale a alternativa correta:

- A. Para cruzar a pista de rolamento o pedestre tomará precauções de segurança, levando em conta, principalmente, a visibilidade, o tipo de carro que trafega na rodovia, a distância e a velocidade dos veículos;
- B. Nos locais onde houver semáforo de controle de passagem será dada preferência aos pedestres, somente em caso de pessoa portadora de deficiência física, inclusive em caso do semáforo liberar a passagem dos veículos.
- C. Onde houver obstrução da calçada ou da passagem para pedestres, deverão ser providenciadas vias alternativas que ofereçam as mesmas condições da via obstruída, sob pena de pagamento de indenização aos pedestres;
- D. O ciclista desmontado empurrando a bicicleta deve ser equiparado ao ciclista montado com os mesmos direitos e deveres, podendo ser autuado em flagrante se não estiver utilizando os equipamentos de segurança;
- E. Nas áreas urbanas, quando não houver passeios ou quando não for possível a utilização destes, a circulação de pedestres na pista de rolamento será feita com prioridade sobre os veículos.

39. Assinale a sentença que aponta os requisitos necessários para a obtenção da carteira nacional de habilitação:

- A. Saber ler e escrever, ser penalmente imputável, possuir carteira de identidade ou equivalente e ser brasileiro;
- B. Não ter sido condenado criminalmente, saber ler e escrever e possuir certificação de conclusão do Ensino Fundamental;
- C. Possuir seguro de vida, ser portador de carteira de identidade ou equivalente, e ter assistido ao curso de direção defensiva oferecido pelo Detran;
- D. Ser maior de 25 anos e não ter cometido nenhuma infração grave ou gravíssima durante ano anterior;
- E. Ser penalmente imputável, saber ler e escrever e possuir Carteira de Identidade ou equivalente.

40. Assinale a sentença que apresenta corretamente o significado da placa que segue:



R-24b

- A. Vire à direita;
- B. Desvio à direita;
- C. Sentido de circulação de via/pista;
- D. Passagem obrigatória;
- E. Mantenha-se à direita.